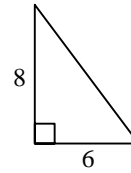
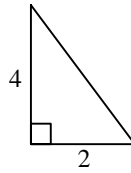
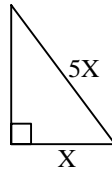


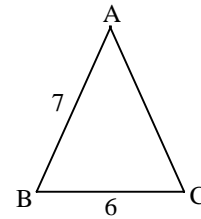
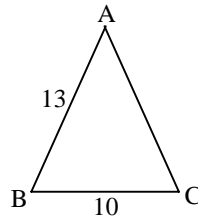
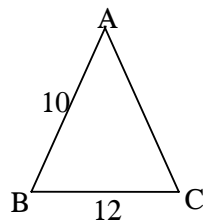


תרגול פסיכומטרי - משולשים מיוחדים

1. בכל אחד מהמשולשים הבאים, מצא את אורך הצלע החסרה.



2. בכל אחד מהמשולשים הבאים $AC=AB$. מצא את שטחו של כל אחד מהמשולשים.



3. בכל אחד מהמשולשים הבאים $AC=AB$. רשום על גבי השרטוט את גודלן של הזוויות בכל משולש.

