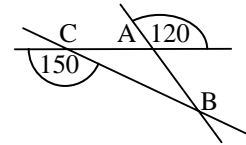
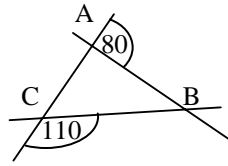
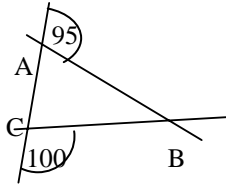
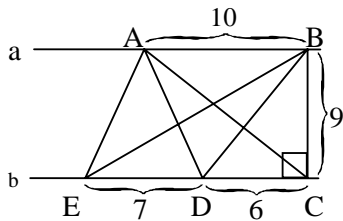
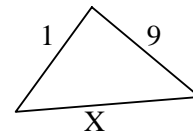
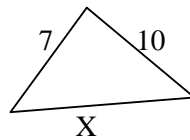
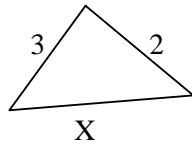


תרגול פסיכומטרי - משולשים פשוטים

1. בכל אחד מהמשולשים הבאים קבע מיהי הצלע הגדולה ומיהי הצלע הקטנה?



2. בכל אחד מהמשולשים הבאים קבע מהו תחום הערכים האפשרי עבור x.



3. בשרטוט שלפניך הקווים a ו-b מקבילים זה לזה. רשום את שטחו של כל אחד מהמשולשים הבאים: EDB, ACD, ABE